

EE CHACARA SANTA MARIA

PLANO DE TRABALHO COM AÇÕES PARA RECUPERAÇÃO DE APRENDIZAGENS  
4º ANO DO ENSINO FUNDAMENTAL

ATIVIDADES DE LÍNGUA PORTUGUESA

HABILIDADE: (EF15LP03) Localizar informações explícitas em textos de diferentes gêneros textuais.


ATIVIDADE:

Escola: \_\_\_\_\_

Data: \_\_\_\_\_ Turma: \_\_\_\_\_ **LEITORZINHO.COM**

Aluno: \_\_\_\_\_

### A roda



Já pensaste como seria a vida do Homem sem conhecer a roda?

Repara em como ele se cansou, transportando nas mãos, nos braços, às costas, aquilo de que precisava.

Um dia reconheceu que, arrastando os fardos se esforçava menos. Em cima de um tronco era ainda mais fácil...Mais tarde descobriu que os fardos em cima de dois pedaços de um tronco deslizavam melhor.

Com o tempo, o Homem inventou a roda. Depois meteu-lhe um eixo. Abriu-lhe cavidades para a tornar mais leve. Ajustou-lhe raios. Descobriu ainda que, com um aro de borracha, a roda deslizava mais suavemente. E assim, de descoberta em descoberta, o Homem fabricou os pneus que hoje rolam em todos os caminhos do Mundo.

Alice Gomes

### De olho no texto

1. O texto fala de uma grande invenção criada há cerca de 5.000 ou 6.000 anos atrás. Qual é essa invenção?

\_\_\_\_\_

2. Como você acha que seria o mundo se a roda não tivesse sido inventada?

\_\_\_\_\_

3. Antes de inventar a roda como as coisas eram transportadas pelo homem?

\_\_\_\_\_

4. Que tipo de texto você leu e quem o escreveu?


\_\_\_\_\_

HABILIDADE:

(EF03LP12) Ler e compreender, com autonomia, cartas pessoais, entre outros textos do campo da vida cotidiana

NOME \_\_\_\_\_

PROF. \_\_\_\_\_



1. Escreva abaixo o que/como você acha que Charlie Brown escreveu para a menina ruiva. Fique atento(a) ao gênero textual.

---

---

---

---

---

---

---

---

---

---

ATIVIDADES DE MATEMÁTICA:

HABILIDADE:

(EF04MA22) Ler, reconhecer e registrar medidas e intervalos de tempo em horas, minutos e segundos em situações relacionadas ao cotidiano, como informar os horários de início e término de realização de uma tarefa e sua duração, realizando conversões simples e resolvendo problemas utilizando unidades de tempo.

**1. Observe o relógio:**

**a) Que horas ele está marcando?**

**b) O ponteiro grande aponta para o numeral:**

**c) A função do ponteiro grande é marcar:**

**d) O ponteiro pequeno está entre os numerais:**  
 &

**e) Para que serve o ponteiro pequeno?**

**f) Quando são horas exatas o ponteiro grande aponta o numeral:**

**2. Escreva nos retângulos as horas indicadas em cada um dos relógios:**

<input style="width: 50px; height: 20px;" type="text"/>	<input style="width: 50px; height: 20px;" type="text"/>
<input style="width: 50px; height: 20px;" type="text"/>	<input style="width: 50px; height: 20px;" type="text"/>
<input style="width: 50px; height: 20px;" type="text"/>	<input style="width: 50px; height: 20px;" type="text"/>
<input style="width: 50px; height: 20px;" type="text"/>	<input style="width: 50px; height: 20px;" type="text"/>

122

HABILIDADE:

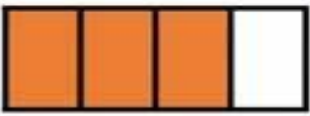
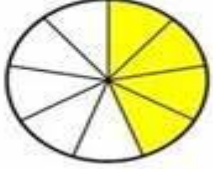


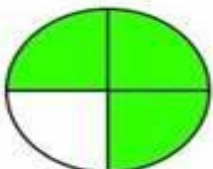


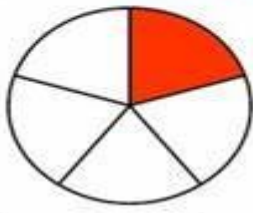
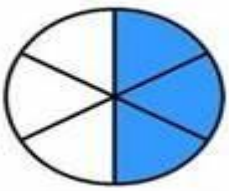
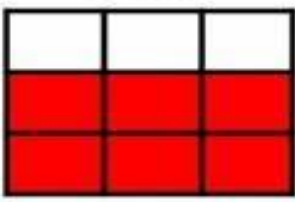
(EF04MA09A) Reconhecer as frações unitárias mais usuais ( $1/2$ ,  $1/3$ ,  $1/4$ ,  $1/5$ ,  $1/10$  e  $1/100$ ) na representação fracionária

ESCOLA \_\_\_\_\_  
DATA \_\_\_\_\_ SÉRIE \_\_\_\_\_  
PRO \_\_\_\_\_  
ALUNO(A) \_\_\_\_\_

*Educação e Transformação*

### Atividade

ESCREVA A FRAÇÃO CORRESPONDENTE:

	<input style="width: 60px; height: 60px; border: 1px solid black; border-radius: 10px;" type="text"/>	<input style="width: 60px; height: 60px; border: 1px solid black; border-radius: 10px;" type="text"/>	
	<input style="width: 60px; height: 60px; border: 1px solid black; border-radius: 10px;" type="text"/>	<input style="width: 60px; height: 60px; border: 1px solid black; border-radius: 10px;" type="text"/>	
	<input style="width: 60px; height: 60px; border: 1px solid black; border-radius: 10px;" type="text"/>	<input style="width: 60px; height: 60px; border: 1px solid black; border-radius: 10px;" type="text"/>	
	<input style="width: 60px; height: 60px; border: 1px solid black; border-radius: 10px;" type="text"/>	<input style="width: 60px; height: 60px; border: 1px solid black; border-radius: 10px;" type="text"/>	
	<input style="width: 60px; height: 60px; border: 1px solid black; border-radius: 10px;" type="text"/>	<input style="width: 60px; height: 60px; border: 1px solid black; border-radius: 10px;" type="text"/>	

Educação e Transformação